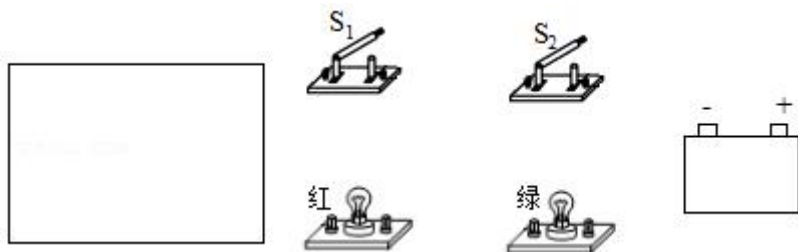


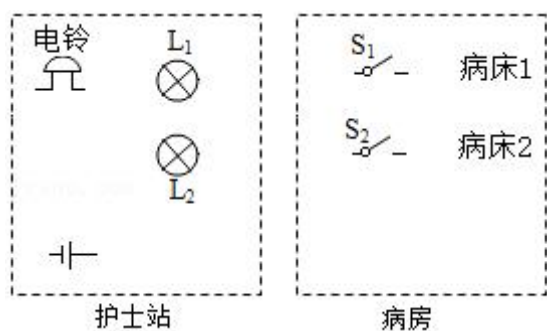


(2)  $S_1$ 、 $S_2$  都闭合时，两灯都发光

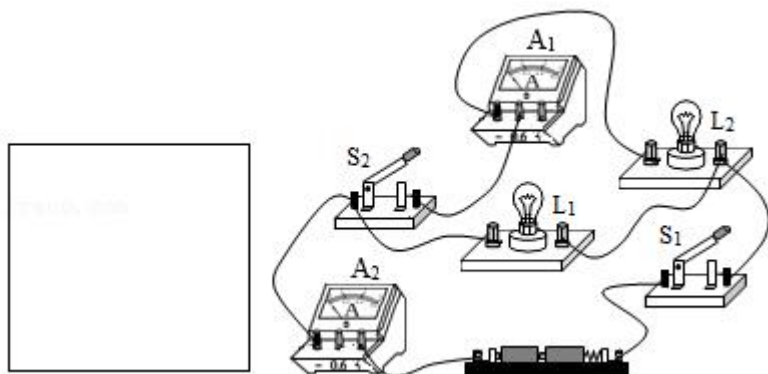
(3) 只闭合  $S_2$  时，两灯均不发光。



7. 健健为抗击新冠疫情设计一个病床呼叫电路。要求：病床 1 旁的开关  $S_1$  控制指示灯  $L_1$  和电铃；病床 2 旁的开关  $S_2$  控制指示灯  $L_2$  和电铃；患者只要按床旁的开关，医务人员就知道谁呼叫。请在图中连线，形成符合要求的完整电路图。



8. 根据如图所示的实物连线图，在左边方框内画出对应的电路图。（要求连线要横平竖直，尽量使电路图简洁美观）



9. 根据如图所示的实物连线图，在虚框内画出对应的电路图。（要求连线要横平竖直，尽量使电路图简洁美观）

